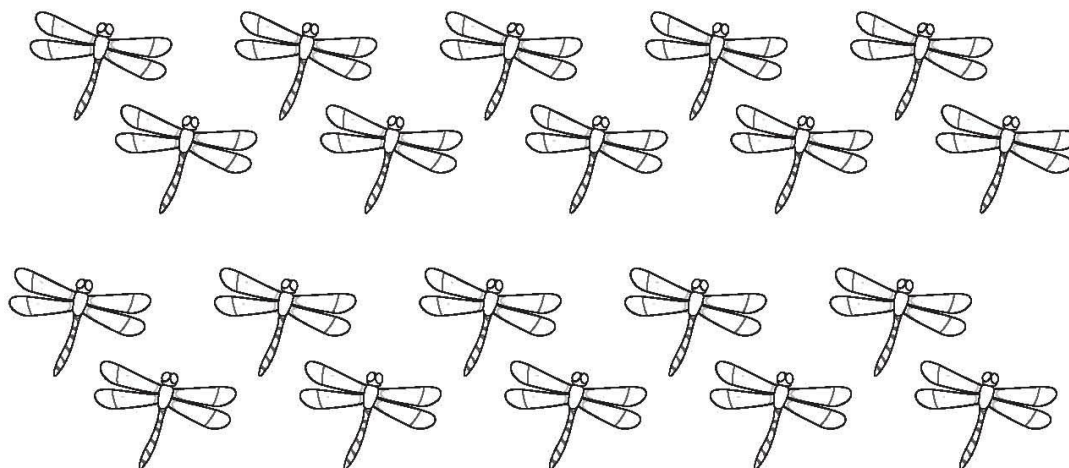
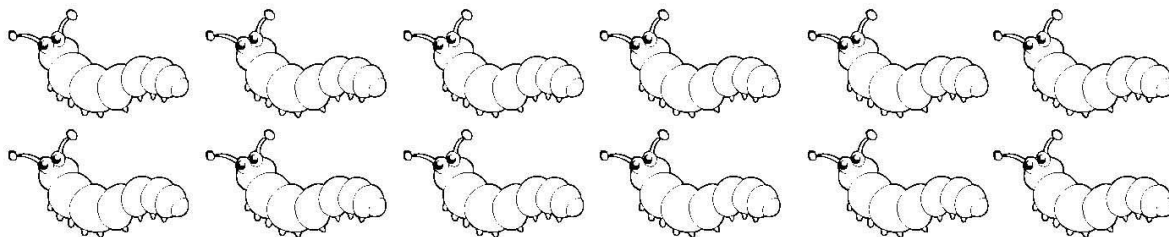




Дропки со инсекти - најди $\frac{1}{4}$


Нацртај круг околу една четвртина од секоја група на инсекти.

(Помош-Подели го бројот на половина а потоа добиениот уште еднаш на половина)




Забава со дропки!

Во моментов се случува забава и ти си поканет/а! Помогни му на домаќинот така што ќе ги поделиш овие намирници!



$\frac{1}{2}$

Нацртај линија за да ја поделиш пицата на половина!



$\frac{1}{4}$

Подели ги колачињата на четвртини. Нацртај ќесичка околу колачињата ки формираат 4 исти групи.



$\frac{1}{2}$

Нацртај послужавник околу половина од мафините.



$\frac{1}{4}$

Подели ја оваа прекрасна торта на четири четвртини.