


Датум: \_\_\_\_\_

Име и презиме: \_\_\_\_\_

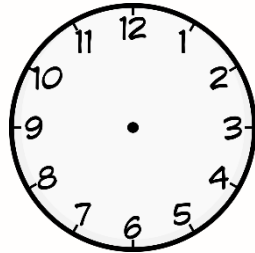
## Користење на единици за мерење на времето – вежби

### Наставен лист


1. Нацртај стрелки со кои ќе го определиш наведеното време.



а) 7 часот и 20 минути



б) 15 часот и 15 минути



в) 21 часот и 50 минути

2. Пресметај колку изнесува должината на времето помеѓу вториот и шестиот час, ако вториот час завршува во 9:25, а петиот започнува во 11:15.

- Претстави на бројна оска
- Добиеното време претвори го во минути и секунди.

Одговор \_\_\_\_\_

3. Претвори ги дадените мерки.

а) 2 h 25 min = \_\_\_\_\_ sec

б) 4h 43 min = \_\_\_\_\_ min

в) 4 дена и 12 часа = \_\_\_\_\_ часа

г) 2 години и 7 месеци = \_\_\_\_\_ месеци

4. Полуматурантите од едно скопско училиште трбале да одат на дводневна екскурзија во Охрид преку Кичево. Поаѓањето им било предвидено да биде во 8 часот и 30 минути.

- Во колку часот ќе пристигнат во Гостивар, ако патот до Гостивар трае 1 час и 15 минути?
- Во колку часот ќе бидат на Стража, ако патот од Гостивар до Стража трае 43 минути?
- Во колку часот ќе поминат низ Кичево, ако од Скопје до Кичево се патува 2 часа и 25 минути?
- Колку ќе трае патот Скопје-Охрид, ако од Кичево до Охрид се патува 55 минути?

Одговор: