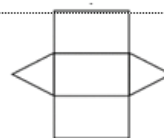
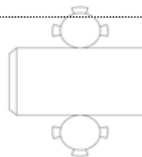
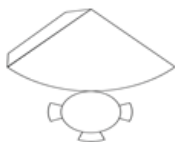
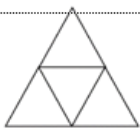
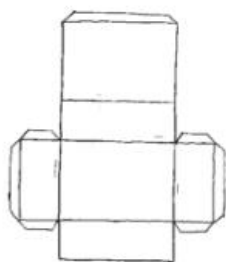


## Мрежи на геометриски тела ( 3 Д форми )

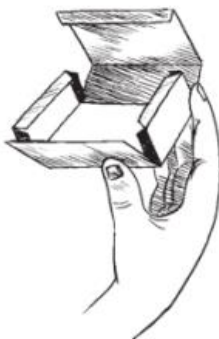
1. Под секоја од мрежите запиши која **3Д форма** може да се направи.



2.



(i)



(ii)



(iii)

Нацртај ја оваа мрежа по дадените димензии, залепи ја на картон, исечи и залепи. Каква 3Д форма доби?

