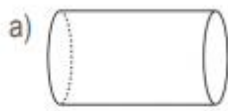


1. Поврзи ги фигурите со предметите кои имаат исти форми.



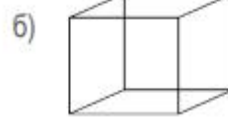
2. Именувај ги 3Д-формите и напиши по колку темиња и страни имаат.



Име: _____

Број на страни: _____

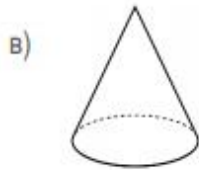
Број на темиња: _____



Име: _____

Број на страни: _____

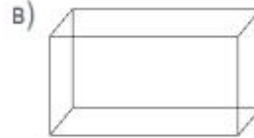
Број на темиња: _____



Име: _____

Број на страни: _____

Број на темиња: _____



Име: _____

Број на страни: _____

Број на темиња: _____

3. Обој ја 2Д-формата која е иста со 2Д-формата во левата колона.

| | | | |
|--|--|--|--|
| | | | |
| | | | |
| | | | |
| | | | |

4. Поврзи го телото со формата која му одговара!

