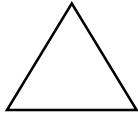



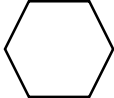
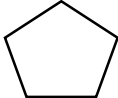


Датум: \_\_\_\_\_

Име и презиме: \_\_\_\_\_

## 2Д ФОРМИ

1. Пополни ја табелата според барањата.

2Д форма			
Страни	_____	_____	_____
Темиња	_____	_____	_____
Име на формата	_____	_____	_____
2Д форма			
Страни	_____	_____	_____
Темиња	_____	_____	_____
Име на формата	_____	_____	_____

2. Нацртај ги формите според барањата. Внимавај на бројот на страни и темиња.

а) квадрат

б) петаголник

в) шестаголник

Очекувани резултати:

- |                                      |    |    |         |
|--------------------------------------|----|----|---------|
| - Препознава 2д форми                | да | не | делумно |
| - Именува 2Д форми                   | да | не | делумно |
| - Определува број на страни и темиња | да | не | делумно |

Одделенски наставник \_\_\_\_\_

Родител \_\_\_\_\_