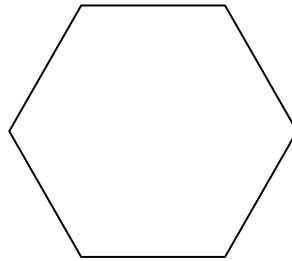



ДРОПКИ - вежби

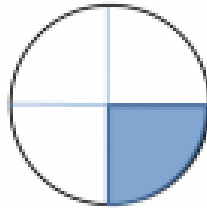
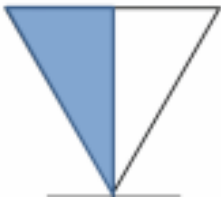
1. Подели ја формата и обој според дадената дробка.

$\frac{1}{4}$





$\frac{1}{2}$

2. Напиши со дробка колкав е обоениот дел!



3.



$\frac{1}{2}$ од 6 е _____

$\frac{1}{4}$ од 8 е _____

4. Две четвртини е исто со _____

Две полови е исто со _____

- определува половина и четвртина од форма
- запишува половина и четвртина со дробка
- определува половина и четвртина од мал број
- воочува еднакви дробки